

Problemas matemáticos con divertidos dibujos




María Olivares para Orientación Andújar



16 €



22 €



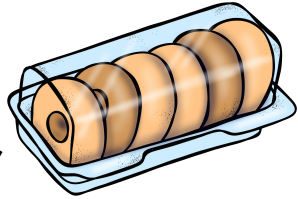
8 €



13 €

• María se ha comprado  y  ,¿cuánto se ha gastado?

• Juan tiene 7€ y se quiere comprar  ,¿cuánto le falta?




4 €



6 €





5 €



9 €

• Ginés ha comprado  y , ¿cuánto se ha gastado?


• Lidia ha comprado  y , y ha pagado con un billete de 20 € ¿cuánto le ha sobrado?



35 €



17 €




8 €



13 €

- Vera se ha comprado  ,  y  , ¿cuánto se ha gastado?


- Luca tiene 50 € y se ha comprado  , ¿cuánto le ha sobrado?



43 €



11 €




18 €



26 €

- Carmen tiene 44 € y se quiere comprar  y , ¿cuánto le falta?

- Hugo ha comprado  y dos , ¿cuánto se ha gastado?




12 €



23 €




40 €




55 €

- Sara ha comprado  y , y tiene 81 €, ¿cuánto le sobra?


- Miguel quiere comprar  y , y tiene 37 €, ¿cuánto le falta?




35 €



17 €



8 €



13 €

- Rafa tiene 32 € y ha comprado  y , ¿cuánto le ha sobrado?

- Sonia quiere comprar  y  pero solo tiene 26 €, ¿cuánto le falta?