

Recurso educativo elaborado a través de los Convenios Internet en la Escuela e Internet en el Aula, entre el MEC y las comunidades autónomas.

UNIDAD	<b>Los Grandes Conjuntos Geográficos</b>
ESCALA	Mundo
APARTADO O	2. LA SABANA
AUTOR	Francisco José Romero Montilla
ARCHIVO	Actividad 1

### TEST

*Una vez terminado el test debe mostrar los resultados, y dar la posibilidad de volver a realizar. Sólo cuando se acierten todas las respuestas se habrá terminado, y podrá volver al menú de actividades.  
Las respuestas correctas aparecen resaltadas.*

1. ¿Cómo son las precipitaciones en la Sabana?


- a. Constantes durante todo el año    b. No llueve a lo largo del año    c. Hay una estación seca y una estación húmeda

2. ¿Qué actividades humanas ponen en marcha el avance del desierto?


- a. El Turismo Ecológico    b. El incremento de la actividad agraria.    c. La Explotación Minera.

3. ¿Cuál de estos paisajes corresponde a una Sabana?

a.



b.



c.

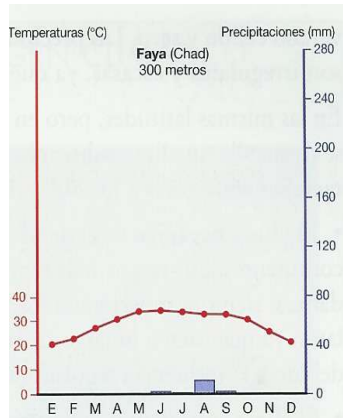


*No encuentro una imagen de la Sabana para esta pregunta. Las imágenes b y c son del CNICE. Podrían sustituirse por dibujos sacados de las animaciones.*

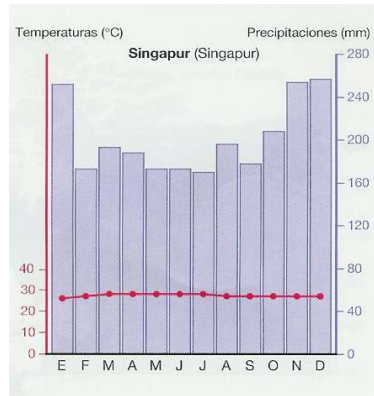
4.

¿Cuál de estos Climogramas no corresponde al Clima Cálido Tropical?

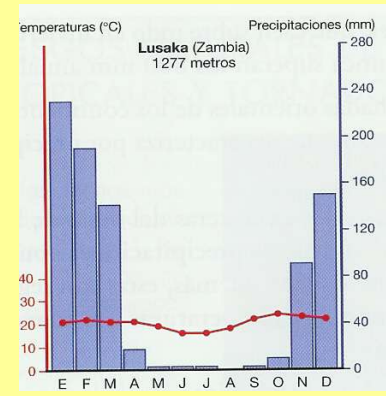
a.



b.



c.



5.

¿Cuál de estos animales no es un herbívoro?

a. Jirafa

b. León

c. Rinoceronte

*NOTA: En el caso de la pregunta 4, los climogramas se pueden sacar de la unidad dedicada a los climas, siendo el primero un clima cálido desértico, el segundo un clima templado continental y el tercero, el correcto sería el ecuatorial.*