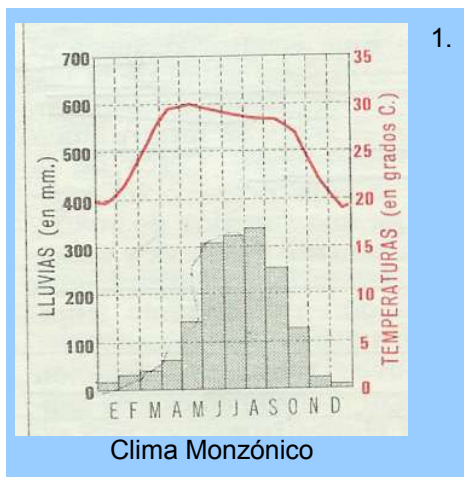


Recurso educativo elaborado a través de los Convenios Internet en la Escuela e Internet en el Aula, entre el MEC y las comunidades autónomas.

UNIDAD	Los Grandes Conjuntos Geográficos
ESCALA	Mundo
APARTADO O	3. Asia Monzónica
AUTOR	Francisco José Romero Montilla
ARCHIVO	Actividad 1

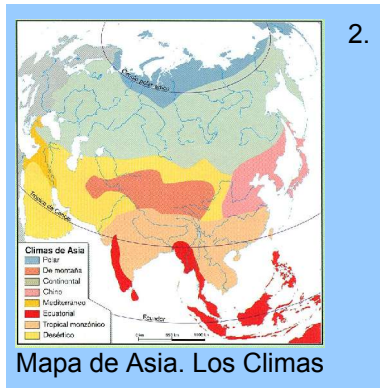
TEST

Utilizar el sistema de puntuación de 2 puntos si se acierta a la primera y de 1 si lo hace a la segunda, cuando se produce el segundo error pasa a la siguiente pregunta. Al finalizar la posibilidad de ver sus errores y de repetir el test. Las imágenes son del CNICE y de la Animación de la Asia Monzónica (climograma, mapas, fotografías) a la que corresponde esta actividad (en el caso de los mapas sería conveniente que no aparezcan los nombres)



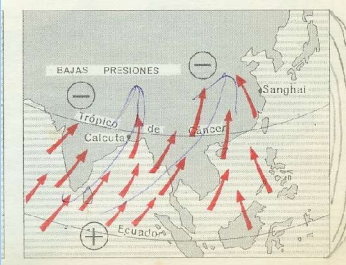
1. ¿En qué estación del año se producen las mayores precipitaciones?

- a. Todo el año b. Invierno c. Verano



2. ¿Qué zona geográfica se ve afectada por el clima monzónico?

- a. Siberia b. Sudeste asiático c. Península Arábiga



Mapa de Asia. El Monzón

3.

¿Qué vientos son los que movilizan las borrascas desde el Océano Índico hacia el interior de Asia?

a. Alisios

b. Tramontana

c. Mistral



Paisaje de Birmania

4.

¿Qué tipo de vegetación se da en el Asia Monzónica?

a. Bosques Tropicales

b. Muy escasa

c. Muy variada

5.

¿Cuál es el cereal más producido en el Asia Monzónica?

a. Maíz

b. Arroz

c. Trigo



Agricultura en el Asia Monzónica